

**MATURITA DES SECTIONS BILINGUES
FRANCO-TCHÉQUES**

EXAMEN DE MATURITA BILINGUE

Année scolaire 2010-2011
Session de mai 2011

**EPREUVE DE GEOGRAPHIE
Durée : 3h30**

Les candidats ont à traiter l'un de ces trois sujets au choix.

1. Composition

L'Union européenne, puissance dans l'espace mondialisé.

Vous pouvez, afin de valoriser votre copie, réaliser des croquis ou des schémas en vous aidant du fond de carte si vous le souhaitez.

2. Composition

La Russie, un Etat et un espace en recomposition.

Vous pouvez, afin de valoriser votre copie, réaliser des croquis ou des schémas, en vous aidant du fond de carte si vous le souhaitez.

3. Etude d'un ensemble documentaire

La mondialisation, une chance pour les pays en voie de développement ?

Liste des documents.

Document n° 1 : Les stocks mondiaux d'investissements directs en 2003.

Document n° 2 : L'ouverture du territoire chinois.

Document n° 3 : 15 millions de paysans chinois vont perdre leurs terres dans les 5 ans.

Document n° 4 : La Corée du Sud.

Document n° 5 : « Les bananes et les affaires ».

Première partie

Analysez l'ensemble documentaire en répondant aux questions suivantes :

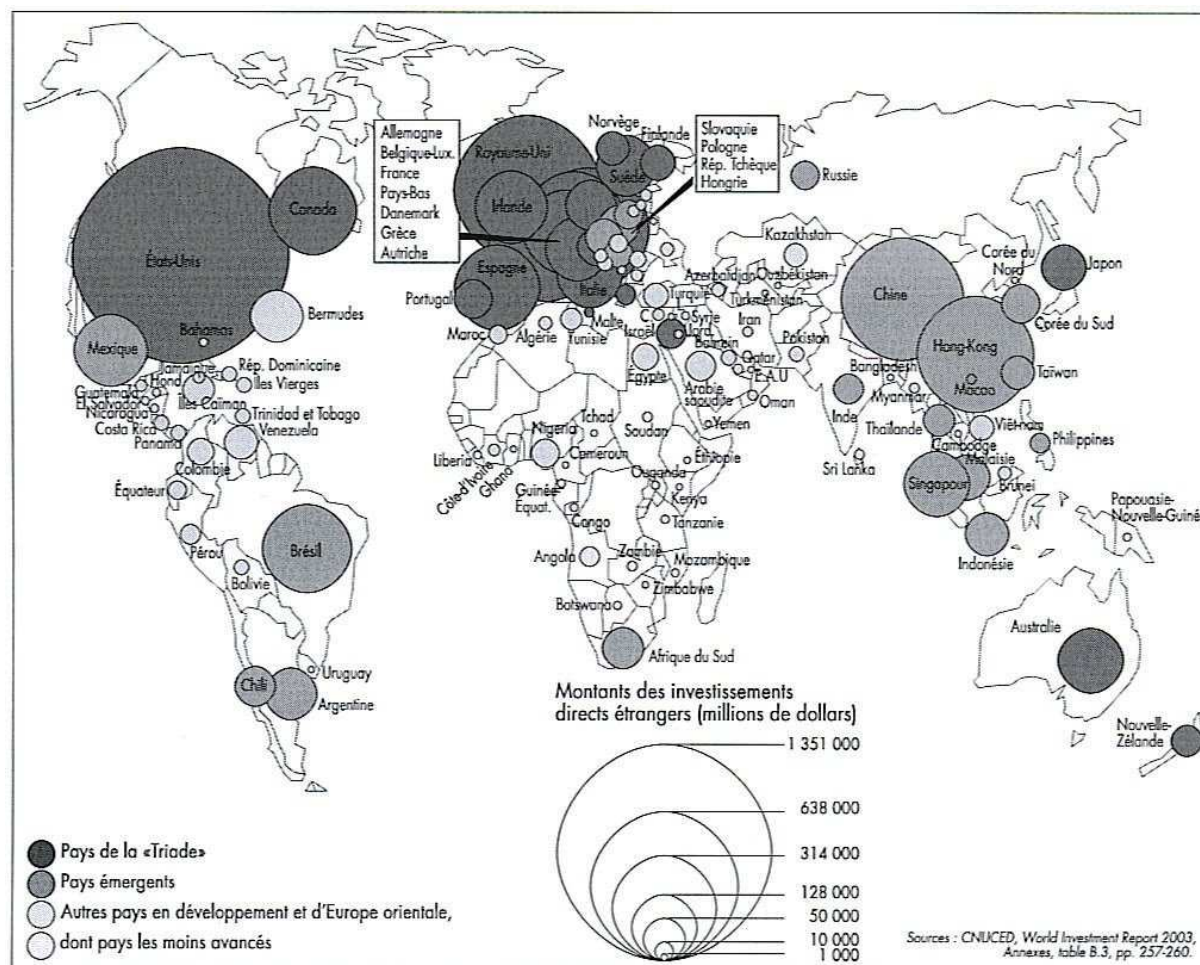
1. Tous les PVD sont-ils concernés de la même façon par la mondialisation ? (document 1)
2. Les documents 2 et 3 nous montrent que la mondialisation peut présenter des aspects positifs et négatifs sur les PVD. Lesquels ?
3. En quoi est-ce que l'exemple de la Corée du Sud (document 4) apporte un élément de réponse au sujet ?
4. Le type d'agriculture évoqué dans le document 5 permet-il le développement des pays du Sud ? Justifiez votre réponse.
5. Quels autres thèmes qui permettraient de répondre à la problématique ne sont pas abordés dans les documents ?

Deuxième partie

A l'aide des réponses aux questions, des informations contenues dans les documents et de vos connaissances personnelles, rédigez une réponse organisée au sujet :

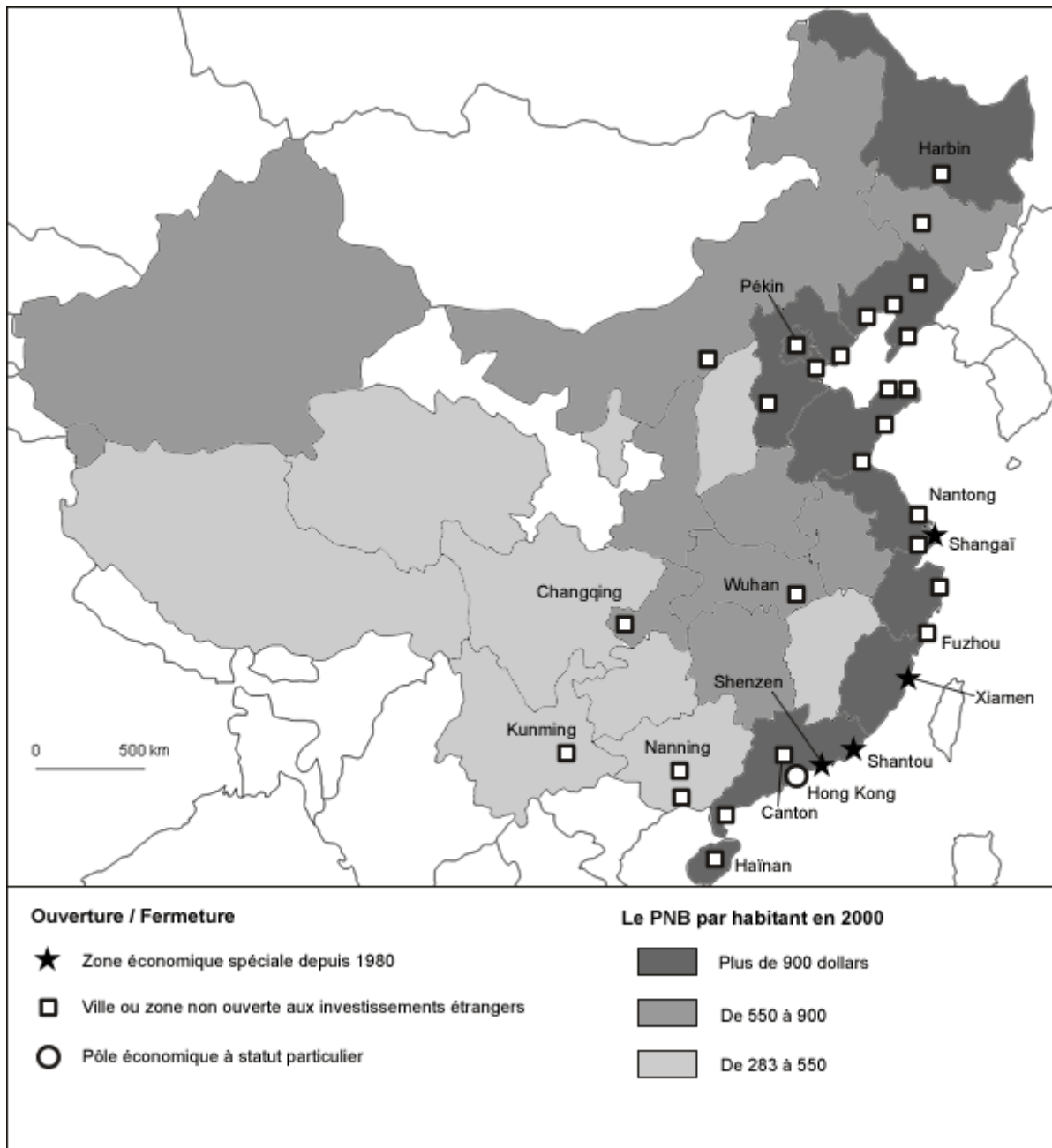
La mondialisation, une chance pour les Pays en Voie de Développement ?

Document n° 1 : Les stocks mondiaux d'investissements directs en 2003.



Source : CNUCED, World Investment Report, 2003.

Document n° 2 : L'ouverture du territoire chinois.



Source : D'après *Bureau national des statistiques de Chine*, 2002.

Document n° 3 : 15 millions de paysans chinois vont perdre leurs terres dans les 5 ans.

Au moins 15 millions de paysans chinois pourraient perdre leur terre au cours des cinq prochaines années du fait de l'urbanisation du pays, selon un rapport officiel. D'après une étude de chercheurs américains et chinois, les saisies de terres ont été multipliées par 15 entre 1995 et 2005. En dix ans, l'urbanisation a été rapide et les terres de plus de 40 millions d'agriculteurs ont été réquisitionnées. Au cours des cinq prochaines années, les terres de 3 millions de fermiers seront chaque année réquisitionnées. Le gouvernement a indiqué le mois dernier que les saisies illégales avaient bondi de 20 % au cours des cinq premiers mois de l'année, soit 25 253 cas recensés portant sur 12 241 hectares. Si ces terres sont parfois saisies pour construire des usines ou créer des zones de développement, on y bâtit aussi des logements. Les jacqueries, souvent brutalement réprimées, se sont multipliées ces dernières années, principalement dans le Sud où la situation dans le secteur foncier est tendue. Selon les statistiques gouvernementales, les « troubles à l'ordre public » ont connu une hausse de 6,6 % en 2005 sur un an, avec 87 000 incidents recensés, tandis que le nombre des « rassemblements de masse qui perturbent l'ordre public » s'est accru de 13 %. Fin 2005, la population rurale était estimée à 745 millions de personnes pour 562 millions d'urbains (57 % – 43 %).

Source : www.agriculture.ch, 25 juillet 2006.


Document n° 4 : La Corée du Sud.

L'un des quatre dragons asiatiques (à ne pas confondre avec les cinq tigres asiatiques), la Corée du Sud a connu une phase spectaculaire de croissance et d'intégration dans l'économie mondiale moderne. Dans les années 1970, le PIB par habitant était comparable à celui des pays les plus pauvres de l'Afrique et de l'Asie. Aujourd'hui, son PIB par habitant est approximativement 20 fois celui de la Corée du Nord et rivalise avec certaines économies de l'Union européenne.

En 2006, la Corée du Sud est la 9^{ème} puissance économique mondiale avec un PIB de 888 milliards de dollars. Il s'agit de la 6^{ème} puissance commerciale mondiale, derrière l'UE, les États-Unis, la Chine, le Japon et le Canada.

Source : www.wikipedia.fr

Document n° 5 : « Les bananes et les affaires ».



Source : Couverture du livre *Bananas and Business: The United Fruit Company in Colombia, 1899-2000*, NYU Press, 2005.

